

## آزمون ریاضی پایه اول

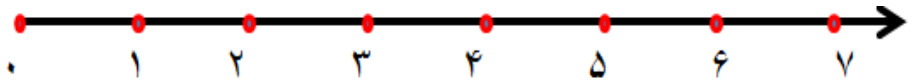
تاریخ آزمون: ۹۱/۱۲/۱۲

دبستان شاهد ریحانه


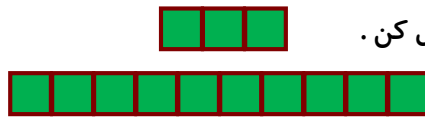

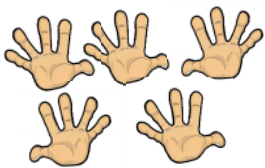
نام و نام خانوادگی:

۱. با رسم شکل ساده این مسئله را حل کن و روی محور اعداد هم نشان بده.

۵ پرنده دانه می خوردند، صدای شکارچی را شنیدند. ۳ پرنده ترسیدند، پرواز کردند و رفتند چند پرنده ماندند؟



۲. هر شکل را به عددش وصل کن.



۳. عددهای نوشته نشده را بنویس.



۴. جواب جمع ها را با چوب خط



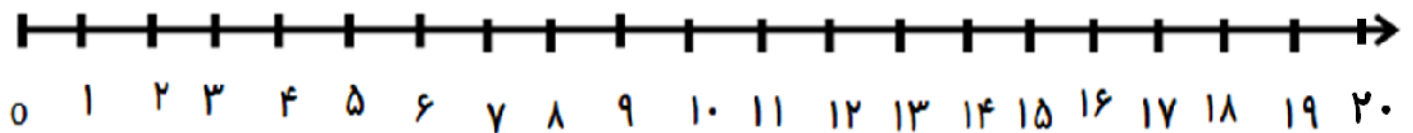
..... + ..... = .....






..... + ..... = .....

پیدا کن و عبارت جمع را بنویس.

۵ - چهار تا چهار تا شمردن را روی محور اعداد نشان بده.

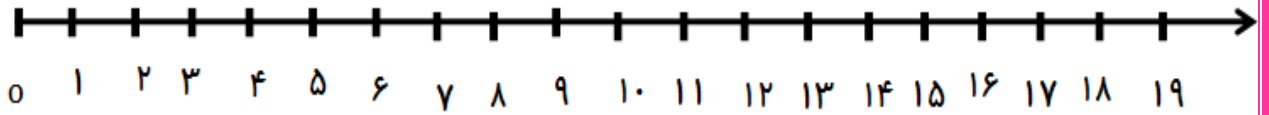


۶. علامت کمتر، بیشتر یا مساوی و یا عدد مناسب بنویس.

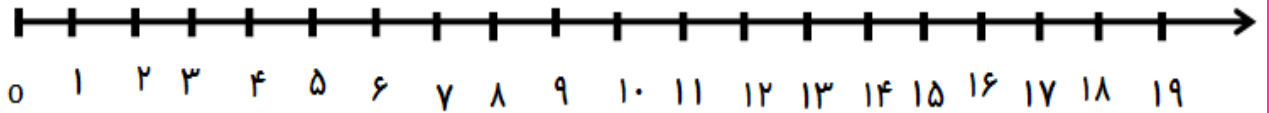


۸ - جمع و تفریق را روی محور نشان بده .

$8 + 8 = \dots\dots\dots$



$17 - 4 = \dots\dots\dots$




۹ - برای شکل روبه رو تفریق بنویس .



-  =

۱۰ . اعداد را ادامه بده .



۱۱ . جواب جمع ها را بنویس .

$20 + 30 =$

$30 + 30 =$

$40 + 10 =$

$20 + 20 =$

شیرین مثل یه بازی!  
به هوش خود می نازی!  
چون ممکنه بازی!  
چون ممکنه بازی!

ریاضی ای ریاضی  
تمرین کنی با ریاضی  
تمرین کنی با دقت  
بی دقتی نباید

